

L'ÉVARISTE

SUJET APRÈS-MIDI

Durée : 4 heures

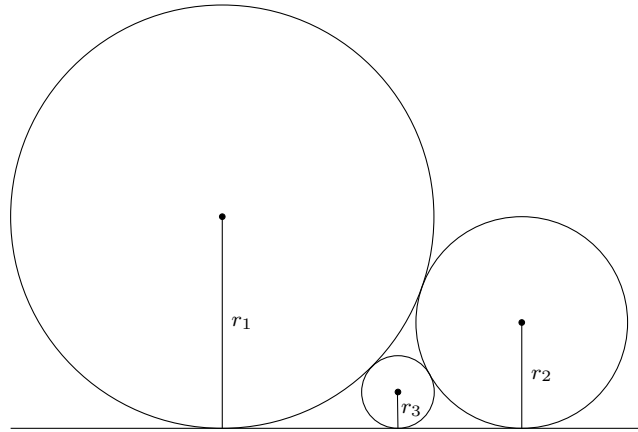
Les téléphones, tablettes, ordinateurs, montres connectées et tous appareils électroniques de communication ou de stockage, ainsi que les documents sont proscrits.

Les calculatrices sans mémoire type collègue ou les calculatrices en mode examen sont autorisées.

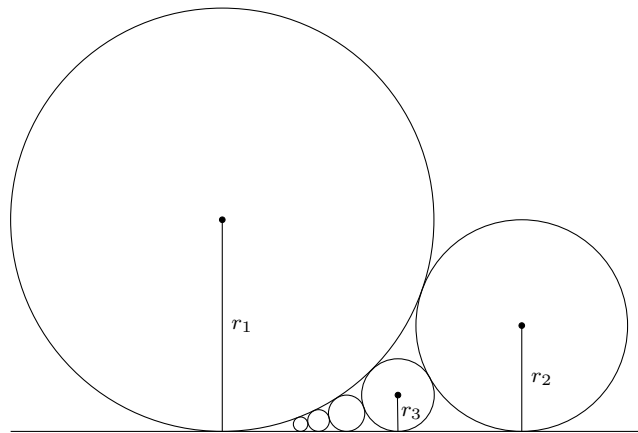
La qualité de la rédaction est un facteur important d'appréciation des copies. L'humilité est la bienvenue à travers les raisonnements. Traitez les problèmes dans l'ordre que vous souhaitez.

Problème 1. (*Sangaku généralisé*)

Au cœur de la préfecture de Gunma (Japon) est né en 1824 le sangaku¹ le plus célèbre : le problème des trois cercles tangents. Considérons une droite horizontale et trois cercles (de rayons respectifs r_1 , r_2 et r_3) tangents deux à deux et configurés ainsi :



On décide ici d'ajouter un peu de complexité à cette configuration célèbre : pour tout $n \geq 3$, on construit le cercle de rayon r_n tangent à la droite horizontale, au cercle de rayon r_1 et au cercle de rayon r_{n-1} . À titre d'exemple, voici un dessin représentant une configuration de 6 cercles :



1. Démontrer que :

$$\frac{1}{\sqrt{r_1}} + \frac{1}{\sqrt{r_2}} = \frac{1}{\sqrt{r_3}}$$

2. Soit $n \geq 3$. Donner une expression de r_n en fonction de r_1 et r_2 .

3. En supposant que l'on trace une infinité de cercles par le procédé décrit précédemment, et en supposant $r_1 = 4$ et $r_2 = 1$, déduire de ce qui précède la valeur de la somme totale des aires.

Indication : On pourra librement utiliser la célèbre égalité² suivante :

$$\sum_{n=1}^{\infty} \frac{1}{n^4} = 1 + \frac{1}{2^4} + \frac{1}{3^4} + \frac{1}{4^4} + \frac{1}{5^4} + \dots = \frac{\pi^4}{90}$$

1. Large panneau de bois que l'on accrochait devant un temple. Le panneau comportait un ou plusieurs problèmes de géométrie, illustrés par des figures de couleurs vives

2. Historiquement due à Euler qui a calculé $\zeta(2k)$ pour tout $k \geq 1$ à l'aide des polynômes de Bernoulli. À noter qu'avec l'arrivée de la théorie de Fourier, des méthodes plus expéditives ont été trouvées !

Problème 2. (*Percutant ou apathique ?*)

Beaucoup de nombres entiers peuvent se décomposer comme somme de deux (ou plus) entiers consécutifs strictement positifs :

$$101 = 50 + 51$$

$$21 = 1 + 2 + 3 + 4 + 5 + 6$$

$$169 = 7 + 8 + 9 + 10 + 11 + 12 + 13 + 14 + 15 + 16 + 17 + 18 + 19$$

...

Un entier n est dit « **apathique** » s'il ne peut pas s'écrire d'une telle façon. Autrement, on dira qu'il est « **percutant** ». Si la décomposition est unique, on dira qu'il est « **véritablement percutant** ».

1. Quels sont les nombres apathiques ?
2. Quel est le plus grand nombre véritablement percutant ?
3. Pour un entier percutant donné, combien existe-t-il de façons de le décomposer comme somme de deux (ou plus) entiers consécutifs strictement positifs ?
4. Donner toutes les décompositions de 1001 en tant que somme de deux (ou plus) entiers consécutifs.
Indication : La décomposition en facteurs premiers de 1001 est $7 \times 11 \times 13$.
5. Quel est le plus petit nombre qui peut être écrit comme la somme de deux (ou plus) entiers consécutifs strictement positifs d'exactly 1000 façons différentes ?

Problème 3.

Soit $x \in \mathbb{R}$. On définit la suite suivante :

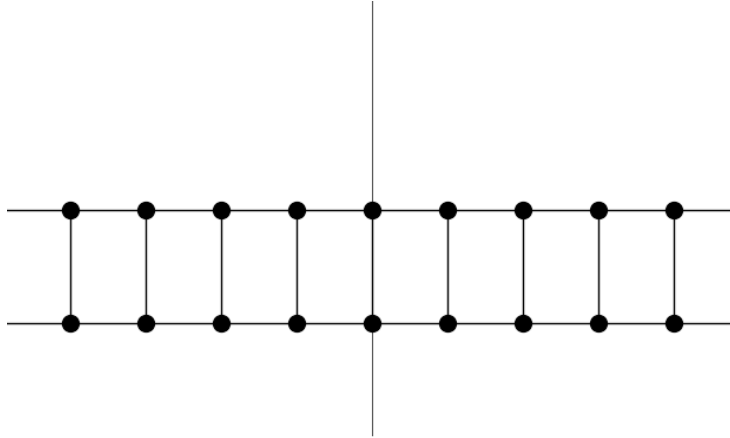
$$\begin{cases} u_0 = x \\ u_{n+1} = x^{u_n} \text{ si } n \geq 0 \end{cases}$$

Lorsque cette suite converge vers une limite réelle finie, on note $f(x)$ sa limite, définissant ainsi une fonction sur un ensemble de définition que l'on note D_f .

1. En admettant que f est définie en $\sqrt{2}$, déterminer $f(\sqrt{2})$.
2. En admettant que f est dérivable en $\sqrt{2}$, déterminer $f'(\sqrt{2})$.
3. Déterminer soigneusement l'ensemble de définition de f .

Problème 4. (*Inspiré par M. Duminil Copin*)

On considère l'ensemble des points à coordonnées **entières** du plan dont les ordonnées sont égales à 0 ou 1, plus communément appelé réseau $\mathbb{Z} \times \{0, 1\}$. De façon plus visuelle :



On note c_n le nombre de chemins de taille n partant de l'origine **qui ne s'auto-coupe pas**. On définit de plus μ la constante de connectivité du réseau par :

$$\mu := \lim_{n \rightarrow \infty} (c_n)^{\frac{1}{n}}$$

On admet que :

$$\lim_{n \rightarrow \infty} \frac{c_{n+2}}{c_n} = \mu^2$$

On définit enfin $(F_n)_{n \in \mathbb{N}}$ suite récurrente linéaire d'ordre 2 par :

$$F_0 = 0 \quad \wedge \quad F_1 = 1 \quad \wedge \quad \forall n \geq 2, \quad F_n = F_{n-1} + F_{n-2}$$

1. Montrer que, pour tout $n \geq 2$:

$$c_n = \begin{cases} 8F_n - n & \text{si } n \text{ est pair} \\ 8F_n - 4 & \text{si } n \text{ est impair} \end{cases}$$

2. En déduire la valeur de μ .



DE Shaw & Co